





Time: 10 Minutes	Paper Math 3	Total Marks: 10
------------------	--------------	-----------------

6th Month, 4th Week, 3rd Day	Syllabus: Unit 7. Review Exercise. Q # 3.
------------------------------	---

Q.1. Answer the following questions by using the picture graph:

(1 picture = 2 animals)

تصویری گراف کی مدد سے درج ذیل سوالات کے جوابات لکھیں۔ (ایک تصویر = 2 جانور)

Deer	
Elephant	
Monkey	
Cheetah	

(i) Which animal is the greatest in number?

کون سا جانور تعداد میں سب سے زیادہ ہے؟

(ii) Which animal is the least in number?

کون سا جانور تعداد میں سب سے کم ہے؟

(iii) What is the total number of elephants and monkeys?

ہاتھیوں اور بندروں کی کل تعداد لکھیں۔

(iv) What is the total number of all animals?

تمام جانوروں کی کل تعداد کتنی ہے؟





Time: 10 Minutes	Paper Math 3	Total Marks: 10
------------------	--------------	-----------------

6th Month, 4th Week, 3rd Day	Syllabus: Unit 7. Review Exercise. Q # 3.
------------------------------	---

Q.1. Answer the following questions by using the picture graph:

(1 picture = 2 animals)

تصویری گراف کی مدد سے درج ذیل سوالات کے جوابات لکھیں۔ (ایک تصویر = 2 جانور)

Deer	
Elephant	
Monkey	
Cheetah	

(i) Which animal is the greatest in number?

کون سا جانور تعداد میں سب سے زیادہ ہے؟

(ii) Which animal is the least in number?

کون سا جانور تعداد میں سب سے کم ہے؟

(iii) What is the total number of elephants and monkeys?

ہاتھیوں اور بندروں کی کل تعداد لکھیں۔

(iv) What is the total number of all animals?

تمام جانوروں کی کل تعداد کتنی ہے؟
